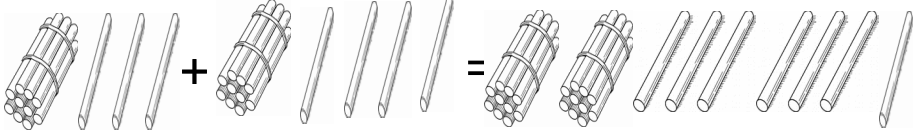


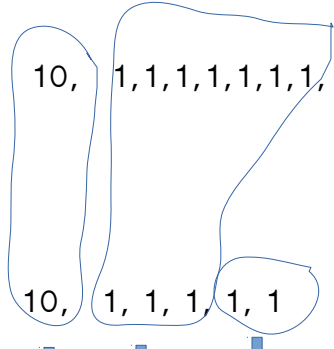
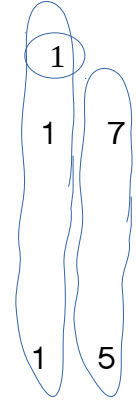
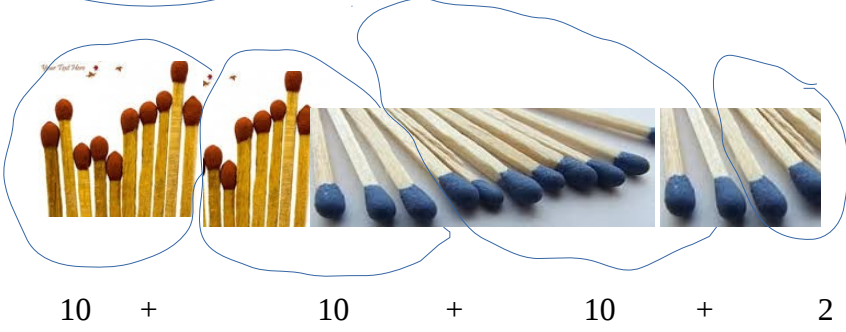
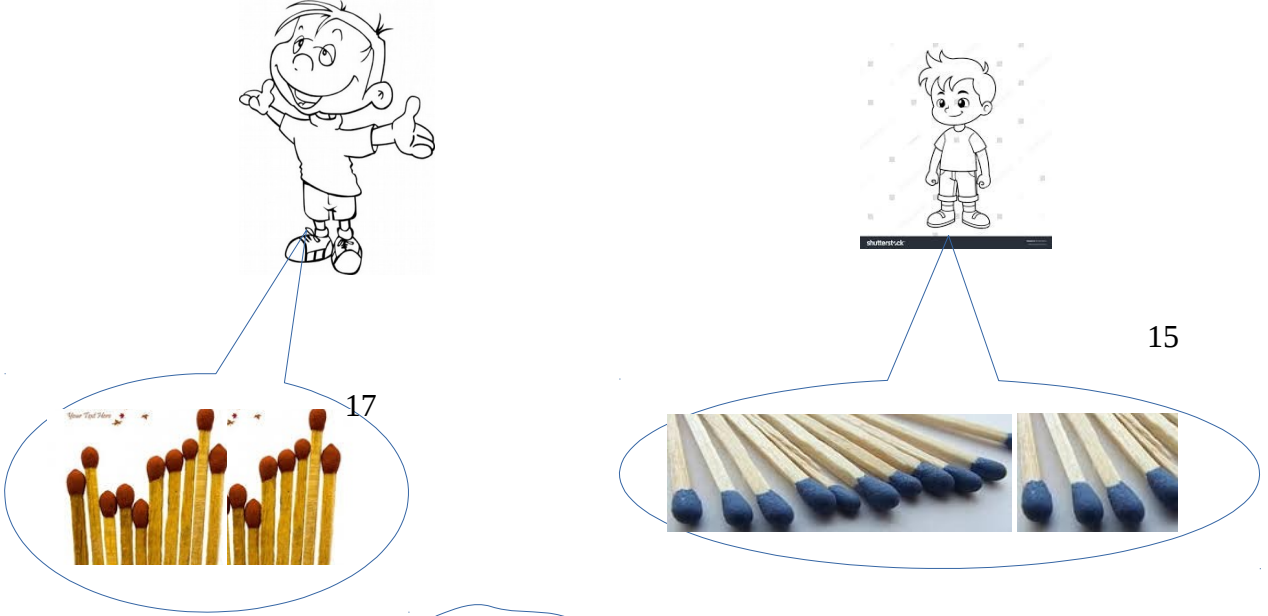


1. ಕೊಟ್ಟಿರುವ ಲೆಕ್ಕಗಳಿಗೆ ಚಿತ್ರ ಸಹಿತ ಕೂಡುವ ಲೆಕ್ಕಗಳನ್ನು ಮಾಡು

$13 + 14 = 27$	 $10 + 3 + 10 + 4 = 27$
$18 + 27 =$	
$29 + 15 =$	
$39 + 24 =$	
$41 + 69 =$	
$12 + 10 + 5 =$	

2. ಕೆಳಗಿನ ದಶಕ ಸಹಿತ ಕೂಡುವ ಲೆಕ್ಕಗಳನ್ನು ಮಾಡು.

ರಮೇಶನ ಬಳಿ 17 ಬೆಂಕಿಕಡ್ಡಿಗಳಿರುವ ಒಂದು ಡಬ್ಬವಿದೆ, ಸುರೇಶನ ಬಳಿ 15 ಬೆಂಕಿಕಡ್ಡಿಗಳಿರುವ ಒಂದು ಡಬ್ಬವಿದೆ. ಹಾಗಾದರೆ ಇಬ್ಬರ ಬಳಿ ಇರುವ ಒಟ್ಟು ಬೆಂಕಿ ಕಡ್ಡಿಗಳೆಷ್ಟು ?



ಕೆಲಗಿನ ಲೆಕ್ಕಗಲನ್ನು ಮೇಲಿನ ಉದಾಹರಣೆಯಂತೆ ಮಾಡು.

$$28 + 34 =$$

$$12 + 37 =$$

$$43 + 59 =$$

$$20 + 38 =$$

