


2) ಸಳ :


VI. ಚಟುವಟಿಕೆ :

I. ಈ ಕೆಳಗೆ ನೀಡಿರುವ ದೇವಾಲಯಗಳ ಚಿತ್ರಗಳನ್ನು ಗುರುತಿಸಿ ಹೆಸರು ಬರೆಯಿರಿ.

1)



2)



3)




4)




5)




6)




7)




8)



9)



10)



II ಚಟುವಟಿಕೆ :

1. ಈ ಕೆಳಗಿನ ಪದ ಪುಂಜದಲ್ಲಿ ರಾಜರುಗಳ ಹೆಸರುಗಳನ್ನು ಗುರ್ತಿಸಿ ಬರೆಯಿರಿ :

ವಿ	ಮೂ	ರ	ನೇ	ಕಲ	ಷಣ	ಅ	ಮುಂ	ಮ	ರಾ
ಷ್ಟು	ರಾ	ಜೇಂ	ದ್ರ	ಚೋ	ಳ	ಮೋ	ರ	ಹೇಂ	ಜ
ಬ	ಕ	ರ್ಷ	ಬ	ಧರ್	ನ	ಛ	ನೇ	ದ್ರ	ಶ್ರೀ
ಧರ್	ಮ	ಯೂ	ರ	ವ	ಮರ್	ವ	ಬ	ಬ	ಕ್ಮ
ನ	ರ	ಸಿಂ	ಕ	ವ	ಮರ್	ಕ್ಷರ್	ಸ್ಥಾ	ಮರ್	ಷ್ಟ
ಪು	ಶೌ	ದು	ಶ್ರೀ	ರಾ	ಸೋ	ನ್ಮ	ಳ	ಕ	ದೇ
ಲ	ತ	ವಿ	ಪು	ಚ	ಮೇ	ಪ	ಗೋ	ಕ್ಮ	ಬ
ಕೇ	ಕ	ನೀ	ರು	ಮ	ಶ್ಚ	ತುಂ	ವಿಂ	ಬು	ರಾ
ಶಿ	ಣಿರ್	ತ	ಷ	ಸ್ಥಿ	ರ	ಗ	ದ	ಕ್ಮ	ಯ

- 1) _____ 10) _____
- 2) _____ 11) _____
- 3) _____ 12) _____
- 4) _____ 13) _____
- 5) _____ 14) _____
- 6) _____ 15) _____
- 7) _____ 16) _____
- 8) _____ 17) _____
- 9) _____ 18) _____

ಚಟುವಟಿಕೆ :

1. ಕೊಟ್ಟಿರುವ ಭಾರತದ ನಕ್ಷೆಯಲ್ಲಿ ಈ ಕೆಳಗಿನ ಸ್ಥಳಗಳನ್ನು ಗುರುತಿಸಿ :

- | | | |
|-----------------|------------|------------|
| 1) ಬನವಾಸಿ | 2) ಅಮರಾವತಿ | 3) ಐಹೊಳೆ |
| 4) ಶ್ರವಣ ಬೆಳಗೊಳ | 5) ಹಾನಗಲ್ | 6) ತಲಕಾಡು |
| 7) ತಂಜಾವೂರು | 8) ಮಧುರೈ | 9) ತಾಳಗುಂದ |
| 10) ಬೇಲೂರು | | |

